

[1]

$$(1) f(x) = \frac{1}{2}|x^2 + 4x - 5| + x$$

$$x^2 + 4x - 5 = (x-1)(x+5)$$

(i) $x \leq -5$, $1 \leq x$ のとき

$$\begin{aligned} f(x) &= \frac{1}{2}(x^2 + 4x - 5) + x \\ &= \frac{1}{2}(x+3)^2 - 7 \end{aligned}$$

$f(x) = 0$ のとき

$$\frac{1}{2}x^2 + 3x - \frac{5}{2} = 0 \quad \text{より} \quad x^2 + 6x - 5 = 0$$

$$x = -3 \pm \sqrt{9+5} = -3 \pm \sqrt{14}$$

$$f(-5) = -5, \quad f(1) = 1$$

(ii) $x \leq -5$, $1 \leq x$ のとき

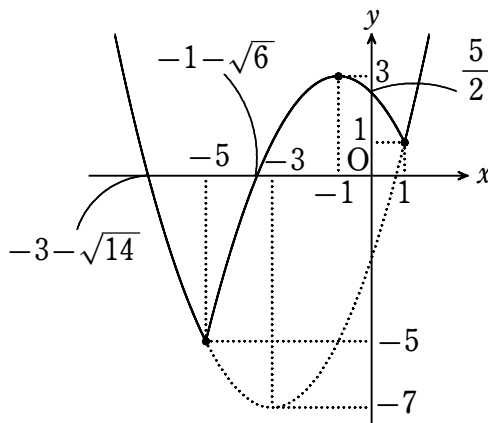
$$\begin{aligned} f(x) &= -\frac{1}{2}(x^2 + 4x - 5) + x \\ &= -\frac{1}{2}(x+1)^2 + 3 \end{aligned}$$

$f(x) = 0$ のとき

$$-\frac{1}{2}x^2 - x + \frac{5}{2} = 0 \quad \text{より} \quad x^2 + 2x - 5 = 0$$

$$x = -1 \pm \sqrt{6}$$

$y = f(x)$ のグラフは次のとおり



…[答]

(2) $f(x) + k = 0$

$$f(x) = -k$$

実数解の個数は曲線 $y = f(x)$ と直線 $y = -k$ との異なる共有点の個数と一致する。

$-k < -5$ つまり $k > 5$ のとき 0 個

$-k = -5$ つまり $k = 5$ のとき 1 個

$3 < -k, -5 < k < 1$ つまり $k < -3, -1 < k < 5$ のとき 2 個

$-k = 1, 3$ つまり $k = -3, -1$ のとき 3 個

$1 < -k < 3$ つまり $-3 < k < -1$ のとき 4 個

以上より

$k > 5$ のとき 0 個

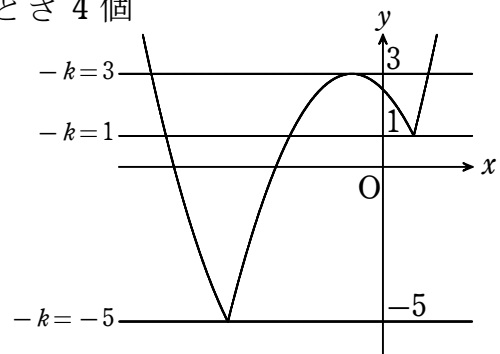
$k = 5$ のとき 1 個

$k < -3, -1 < k < 5$ のとき 2 個

$k = -3, -1$ のとき 3 個

$-3 < k < -1$ のとき 4 個

...[答]



(3) P(-5, 5), Q(1, 1)

ℓは2点 P, Q を通る直線であるから $y = x$

ℓ と垂直な直線 m の傾きは -1

$x \leq -5, 1 \leq x$ のとき

$$f(x) = \frac{1}{2}x^2 + 3x - \frac{5}{2}$$

$$f'(x) = x + 3$$

$f'(x) = -1$ のとき $x + 3 = -1$

$x = -4$ となり $x \leq -5, 1 \leq x$ に反する。

$-5 \leq x \leq 1$ のとき

$$f(x) = -\frac{1}{2}x^2 - x + \frac{5}{2}$$

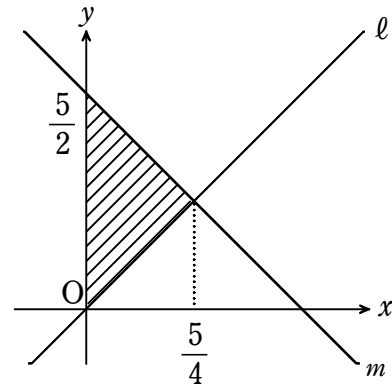
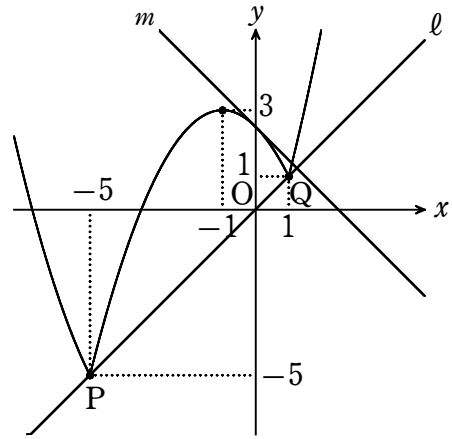
$$f'(x) = -x - 1$$

$f'(x) = -1$ のとき $-x - 1 = -1$

$x = 0$ となり $-5 \leq x \leq 1$ に適する。

したがって直線 m は $(0, \frac{5}{2})$ で接する

ときで、その方程式は $y = -x + \frac{5}{2}$



ℓ と m の共有点の x 座標は

$$x = -x + \frac{5}{2}$$

$$2x = \frac{5}{2}$$

$$x = \frac{5}{4}$$

よって、直線 ℓ , m と y 軸とで囲まれた三角形の面積を S とすると

$$S = \frac{1}{2} \cdot \frac{5}{4} \cdot \frac{5}{2} = \frac{25}{16} \quad \dots[\text{答}]$$

高松高等予備校

[2]

最初と同じ状態を **P**，そうでない状態を **Q** とすると

- (1) **P** から **P** となるのは，袋 **A**，袋 **B** から同じ色の球を取り出す場合だから

$$a_1 = \left(\frac{1}{2}\right)^2 + \left(\frac{1}{2}\right)^2 = \frac{1}{2} \quad \dots[\text{答}]$$

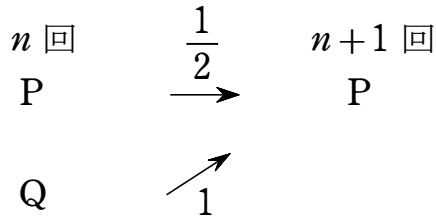
また，状態 **Q** からは確率 1 で状態 **P** になるので，2 回の試行後に状態 **P** になるのは

P → **P** → **P** または **P** → **Q** → **P** だから

$$a_2 = \frac{1}{2} \times \frac{1}{2} + \left(1 - \frac{1}{2}\right) \times 1 = \frac{3}{4} \quad \dots[\text{答}]$$

$$a_3 = a_2 \times \frac{1}{2} + (1 - a_2) \times 1 = \frac{5}{8} \quad \dots[\text{答}]$$

(2)



$n+1$ 回の試行後に状態 **P** となるのは

n 回の試行後に状態 **P** から確率 $\frac{1}{2}$ で状態 **P** になる場合か

n 回の試行後に状態 **Q** から確率 1 で状態 **P** になる場合かのいずれかなので

$$a_{n+1} = \frac{1}{2}a_n + b_n \quad \dots[\text{答}]$$

- (3) $b_n = 1 - a_n$ だから

$$\begin{aligned} a_{n+1} &= \frac{1}{2}a_n + 1 - a_n \\ &= -\frac{1}{2}a_n + 1 \end{aligned}$$

これより， $a_{n+1} - \frac{2}{3} = -\frac{1}{2}\left(a_n - \frac{2}{3}\right)$ だから

数列 $\left\{a_n - \frac{2}{3}\right\}$ は初項 $a_1 - \frac{2}{3} = -\frac{1}{6}$ ，公比 $-\frac{1}{2}$ の等比数列となる。

$$\therefore a_n - \frac{2}{3} = \left(-\frac{1}{6}\right)\left(-\frac{1}{2}\right)^{n-1}$$

$$\therefore a_n = \frac{2}{3} + \frac{1}{3} \left(-\frac{1}{2}\right)^n$$

…[答]

高松高等予備校

[3]

$$(1) \quad \overrightarrow{OC} = \frac{1}{2}\vec{a} + \frac{1}{2}\vec{b}$$

$$\overrightarrow{OD} = \frac{1}{2}\overrightarrow{OC}$$

$$= \frac{1}{4}\vec{a} + \frac{1}{4}\vec{b} \quad \dots \textcircled{1}$$

$\overrightarrow{OP} = m\vec{a}$, $\overrightarrow{OQ} = n\vec{b}$ (m, n は正の実数) から

$$\vec{a} = \frac{1}{m}\overrightarrow{OP}, \quad \vec{b} = \frac{1}{n}\overrightarrow{OQ}$$

①へ代入して

$$\overrightarrow{OD} = \frac{1}{4m}\overrightarrow{OP} + \frac{1}{4n}\overrightarrow{OQ}$$

点 D は直線 PQ 上の点であるから

$$\frac{1}{4m} + \frac{1}{4n} = 1$$

したがって

$$\frac{1}{m} + \frac{1}{n} = 4$$

…[答]

$$(2) \quad |\overrightarrow{AB}| = \sqrt{3} \text{ より}$$

$$|\overrightarrow{AB}|^2 = 3$$

$$|\overrightarrow{OB} - \overrightarrow{OA}|^2 = 3$$

$$|\vec{b}|^2 - 2\vec{a} \cdot \vec{b} + |\vec{a}|^2 = 3$$

$$5 - 2\vec{a} \cdot \vec{b} + 1 = 3$$

$$\vec{a} \cdot \vec{b} = \frac{3}{2}$$

$\overrightarrow{OA} \perp \overrightarrow{PQ}$ より

$$\overrightarrow{OA} \cdot \overrightarrow{PQ} = 0$$

$$\vec{a} \cdot (n\vec{b} - m\vec{a}) = 0$$

$$n\vec{a} \cdot \vec{b} - m|\vec{a}|^2 = 0$$

$$\frac{3}{2}n - m = 0$$

$$m = \frac{3}{2}n$$

(1) より

$$\frac{1}{\frac{3}{2}n} + \frac{1}{n} = 4$$

$$\frac{5}{3n} = 4$$

$$n = \frac{5}{12}$$

したがって、

$$\begin{aligned} m &= \frac{3}{2} \cdot \frac{5}{12} \\ &= \frac{5}{8} \end{aligned}$$

以上より

$$m = \frac{5}{8}, \quad n = \frac{5}{12}$$

…[答]

高松高等予備校

[4]

(1) 直線QRの傾きは $s \neq 0$ より

$$\frac{(s^2-1)-(3s^2-3)}{s-(-s)} = \frac{-2s^2+2}{2s}$$

$$= \frac{-s^2+1}{s}$$

よって、直線QRの方程式は

$$y-(s^2-1) = \frac{-s^2+1}{s}(x-s)$$

$y=0$ とすると

$$-(s^2-1) = \frac{-(s^2-1)}{s}(x-s)$$

$s \neq \pm 1$ より

$$s = x - s$$

$$x = 2s$$

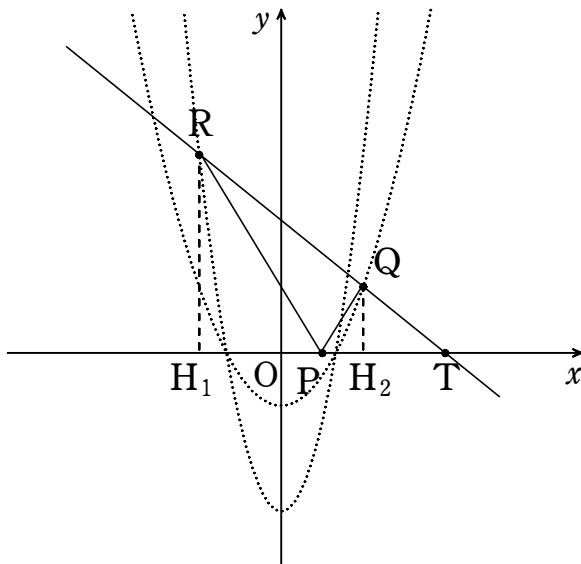
よって、求める座標は

$$(2s, 0)$$

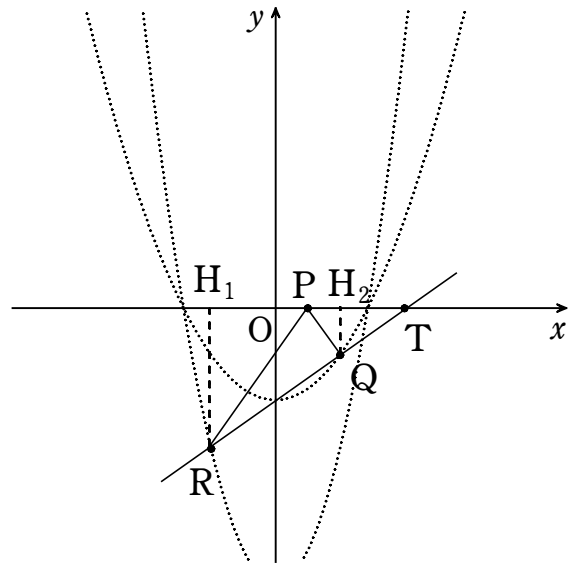
…[答]

(2) $-s < \frac{s}{2} < s$ より、P, Q, Rは図のようである。

$s > 1$ のとき



$0 < s < 1$ のとき



(1)の点をT $(2s, 0)$ とおくと

$$\triangle PQR = \triangle RPT - \triangle QPT$$

$$f(x) = \frac{1}{2} \cdot PT \cdot RH_1 - \frac{1}{2} \cdot PT \cdot QH_2$$

$$= \frac{1}{2} PT (RH_1 - QH_2)$$

$$\begin{aligned}
&= \frac{1}{2} \left(2s - \frac{s}{2} \right) (|3s^2 - 3| - |s^2 - 1|) \\
&= \frac{3}{4} s \cdot 2|s^2 - 1| \\
&= \frac{3}{2} s |s^2 - 1|
\end{aligned}$$

…[答]

(3) $g(s) = \frac{3}{2} s(s^2 - 1)$ ($s \geq 0$) とおくと

$$g(s) = \frac{3}{2} (s^3 - s) \text{ より}$$

$$g'(s) = \frac{3}{2} (3s^2 - 1)$$

したがって、増減表は

s	0	…	$\frac{1}{\sqrt{3}}$	…	1	…
$g'(s)$		−	0	+		+
$g(s)$	0	↘	$-\frac{1}{\sqrt{3}}$	↗	0	↗

また、

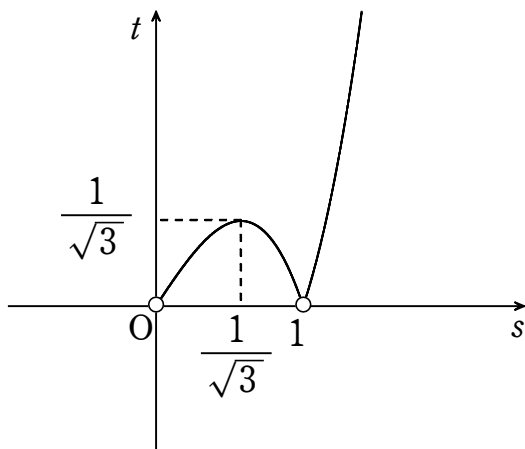
$0 < s < 1$ のとき

$$f(s) = -g(s)$$

$s > 1$ のとき

$$f(s) = g(s)$$

よって、 $t = f(s)$ のグラフは



…[答]

高松高等予備校